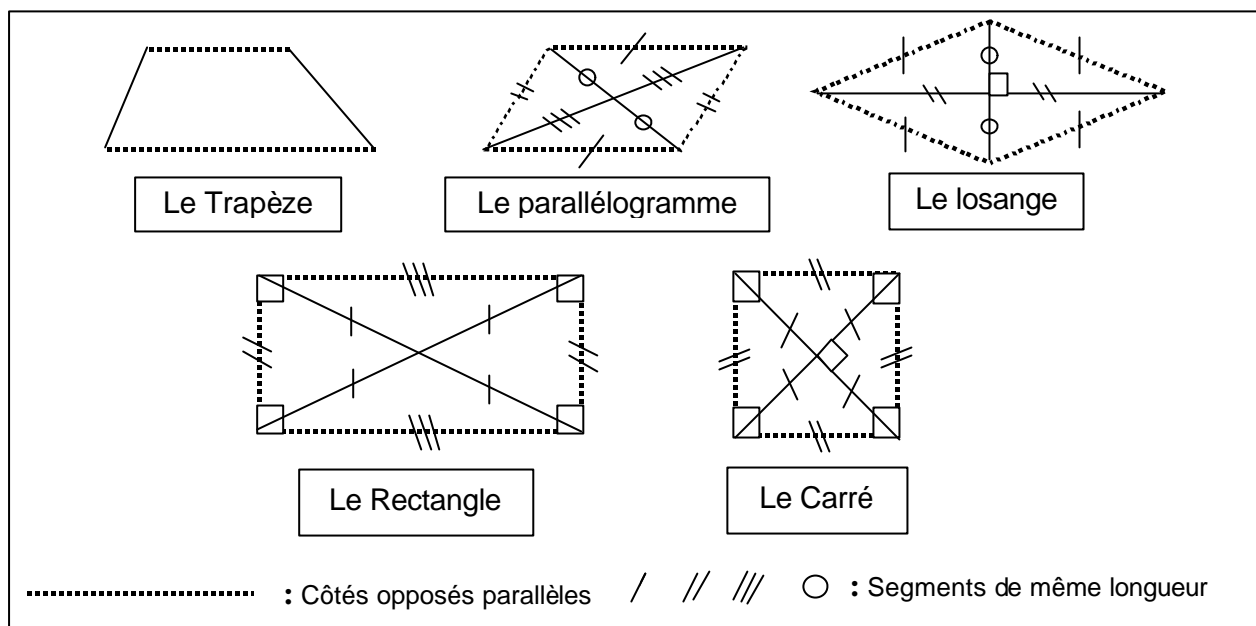


## Connaissez vous les quadrilatères ?



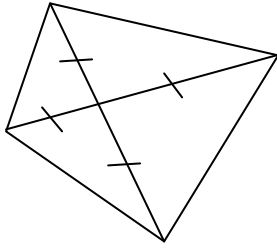
**Pas de chance ! La photocopieuse marche mal, et les dessins ci-dessous ont été complètement déformés ! Il ne faut pas se fier à leur aspect, mais uniquement aux indications données par les symboles...**

Dans chacun des cas suivants, répondre par Vrai ou Faux. **Attention** : Si vous pensez qu'un dessin ne correspond pas à sa légende, on demande de dessiner un contre-exemple **non déformé** sur le cahier d'exercice.

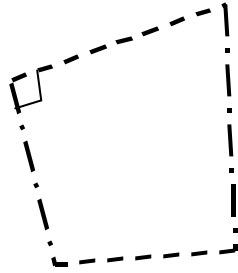
Ne répondez pas par exemple : "Ce n'est pas un parallélogramme, c'est un rectangle..." car un **rectangle** est un parallélogramme (et un trapèze).

De même, un **losange** est un parallélogramme et un trapèze, un **parallélogramme** est un trapèze et un **carré** est un rectangle, un losange, un parallélogramme et un trapèze.

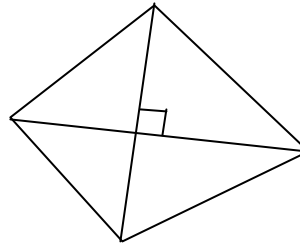
1. Parallélogramme	2. Rectangle	3. Carré	4. Parallélogramme
5. Parallélogramme	6. Parallélogramme	7. Losange	8. Rectangle



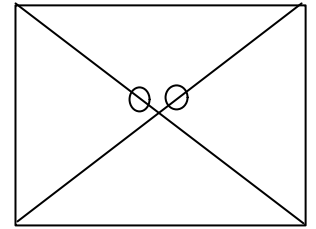
9. Rectangle



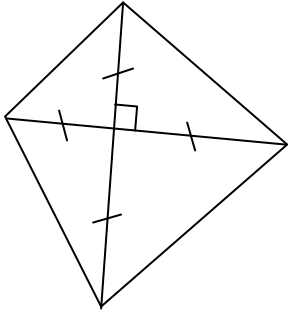
10. Rectangle



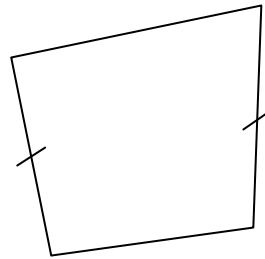
12. Losange



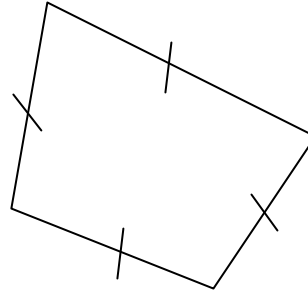
12. Rectangle



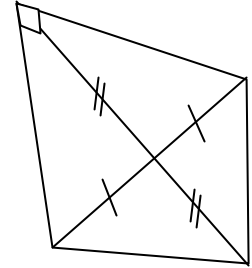
13. Carré



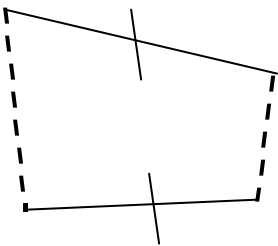
14. Trapèze



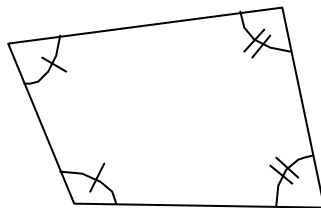
15. Parallélogramme



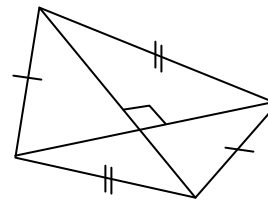
16. Rectangle



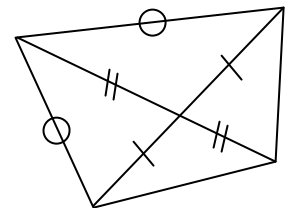
17. Parallélogramme



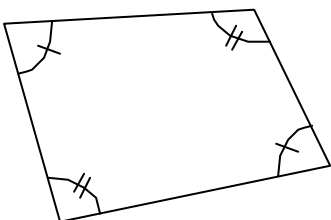
18. Parallélogramme



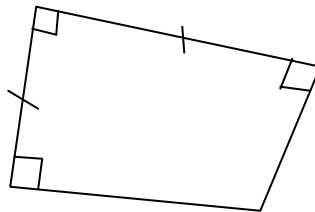
19. Losange



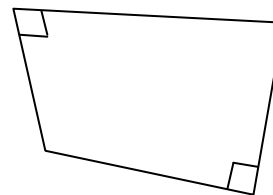
20. Losange



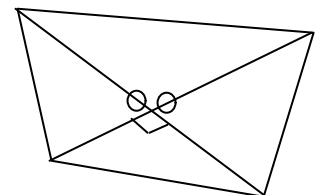
21. Parallélogramme



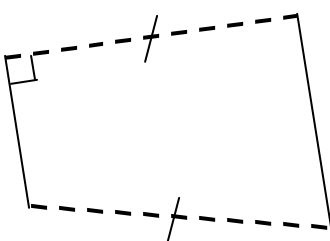
22. Carré



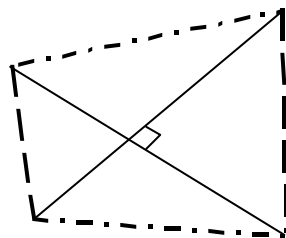
23. Rectangle



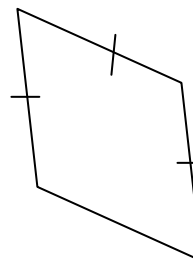
24. Carré



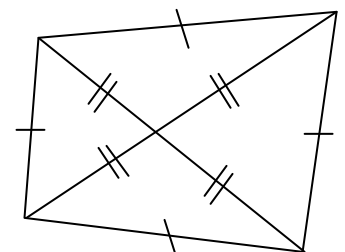
25. Rectangle



26. Losange



27. Losange



28. Carré

9 propositions sur 28 sont fausses, mais lesquelles ?!